

Демонстрационный вариант PDF-файла, в данном файле представлено вопросов: 5 из 20. Полная версия файла выглядит так же, как данный файл, но в полной версии файла представлены все вопросы. Файл со всеми вопросами можно скачать по ссылке, которая расположена внизу этой страницы.

Билет №19

1. Сколько проезжих частей имеет данная дорога?




- 1. Одну
- **2. Две**
- 3. Четыре

Пояснение:

Правильный ответ: 2

Разделительная полоса делит дорогу на проезжие части. Данная дорога имеет две проезжие части, четыре полосы движения. (Пункт 1.2 ПДД)

2. В каком направлении Вам можно продолжить движение на легковом автомобиле?




- 1. Только прямо
- 2. Прямо и направо
- **3. В любом**

Пояснение:

Правильный ответ: 3

Табличка 8.4.1 «Вид транспортного средства» распространяет действие знака, с которым она применена, на грузовые автомобили, в том числе с прицепом, с р.м.м. более 3,5 т. Вы управляете легковым автомобилем, действие знака на Вас не распространяется. Можете продолжать движение в любом направлении.

3. Разрешено ли осуществлять посадку (высадку) пассажиров либо загрузку (разгрузку) транспортного средства в зоне действия этого знака?



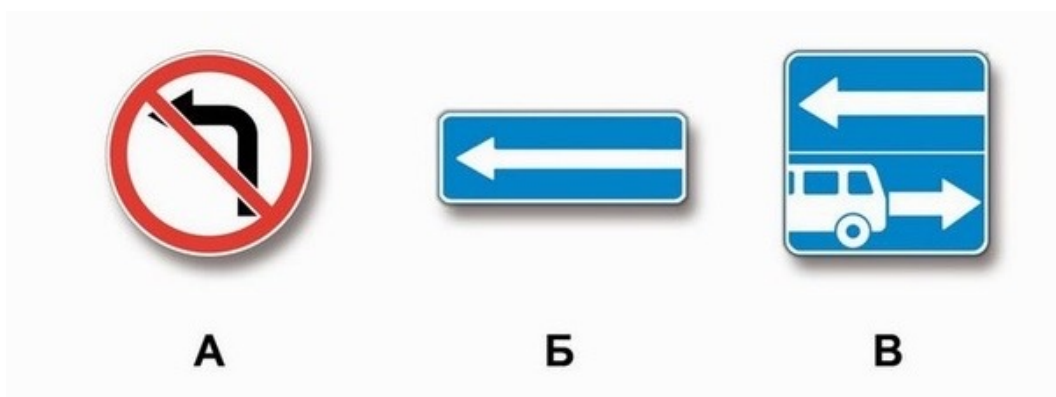
- **1. Разрешено**
- 2. Разрешено, если это займет не более 5 минут
- 3. Запрещено

Пояснение:

Правильный ответ: 1

В зоне действия знака 3.28 «Стоянка запрещена» разрешается «остановка», включающая все действия, определяемые данным термином.

4. Какие из указанных знаков разрешают выполнить разворот?



- 1. Только А
- 2. Б и В
- **3. Все**

Пояснение:

Правильный ответ: 3

Все из обозначенных знаков разрешают выполнить разворот на перекрестках, перед которыми они установлены. Знак «А» – 3.18.2. «Поворот налево запрещен». Знак «Б» – 5.7.2. «Выезд на дорогу с односторонним движением». Знак «В» – 5.13.2. «Выезд на дорогу с полосой для маршрутных транспортных средств».

5. Чем необходимо руководствоваться, если значения дорожных знаков и линий горизонтальной разметки противоречат друг другу?

- 1. Требованиями линий разметки
- **2. Требованиями дорожных знаков**
- 3. Правила эту ситуацию не регламентируют

Пояснение:

Правильный ответ: 2

В случае, когда значения дорожных знаков, в том числе временных, и линий горизонтальной разметки противоречат друг другу, водители должны руководствоваться знаками.
